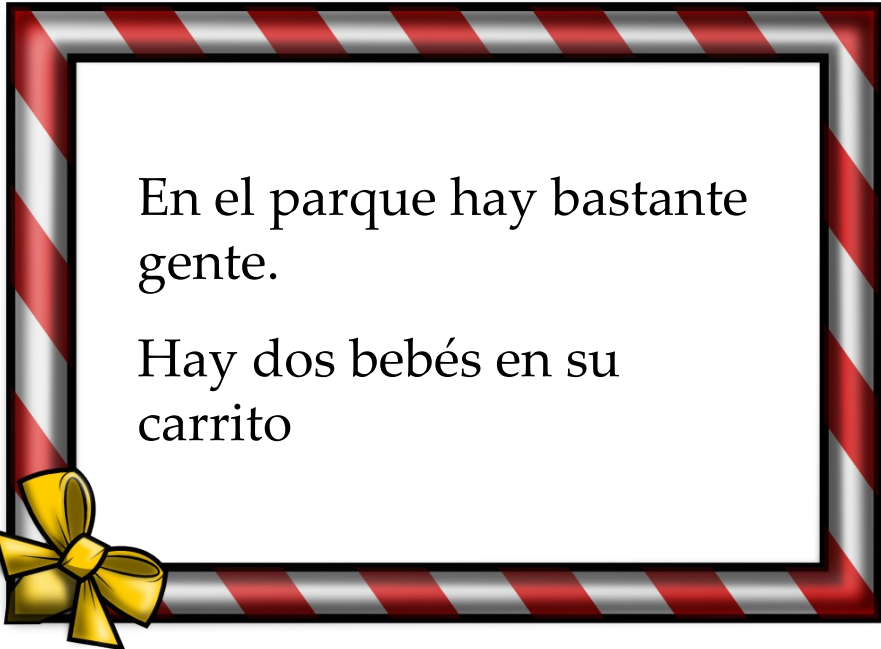
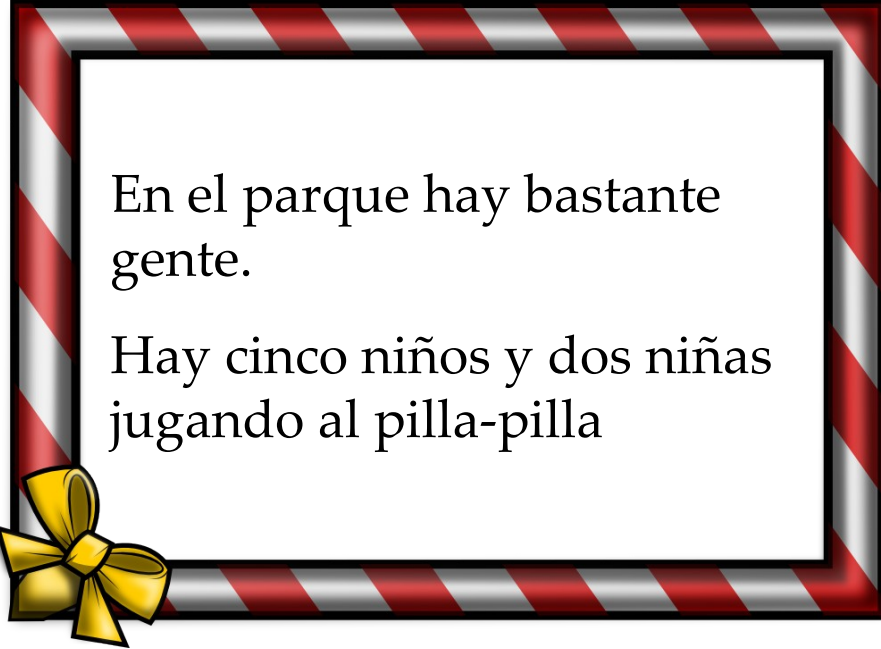


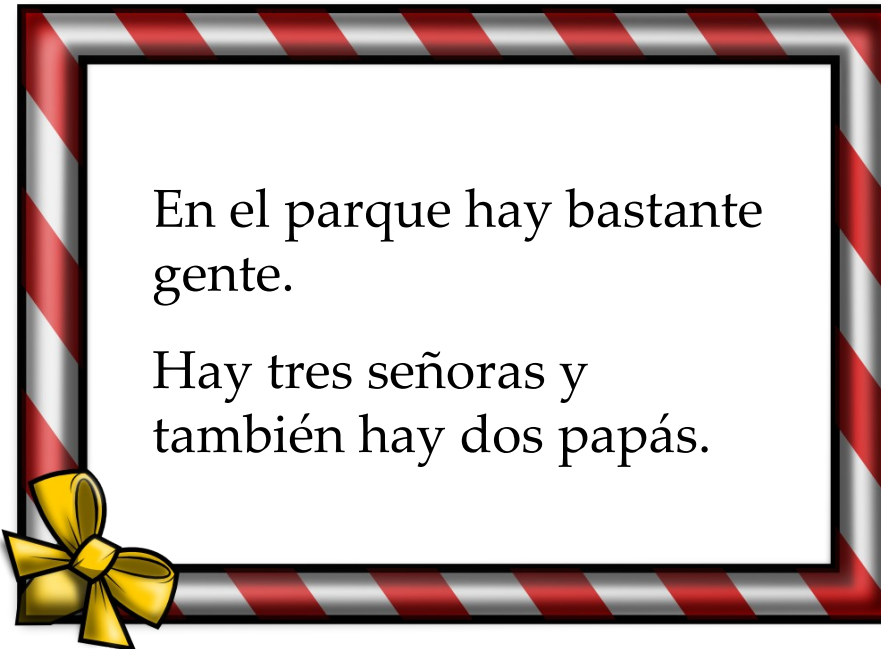
En el parque hay bastante gente.
Hay tres mamás y dos perros



En el parque hay bastante gente.
Hay dos bebés en su carrito



En el parque hay bastante gente.
Hay cinco niños y dos niñas jugando al pilla-pilla



En el parque hay bastante gente.
Hay tres señoras y también hay dos papás.

¿Cuántas personas
hay en el parque?








**¿Cuánto tendremos
que gastarnos en el
Taller de Cocina?**

Esta semana en el Taller de Cocina vamos a preparar un sandwich mixto. Necesitamos:


- Pan de molde
- Jamón de York
- Queso en lonchas.
- Un poquito de mantequilla.
- La sandwichera del colegio.




**Noelia Suárez Martínez
Maestra Especialista en
Audición y Lenguaje**




La tarrina de mantequilla cuesta 2 euros pero no tenemos que comprarla porque nos queda de otras veces.



Hay un queso que cuesta 3 euros y otro que cuesta 2 euros. Vamos a comprar el que tiene el precio más bajo.



El paquete grande de pan de molde cuesta 3 euros.



La sandwichera costó 35 euros pero ya la pagó el colegio el curso pasado.



**El jamón de York en
formato familiar sale por
4 euros**



**Cuando vamos a pagar
sacamos un vale de
descuento y nos
rebajan un euro en el
pan de molde.**



**Necesitamos comprar 2
paquetes de queso y 1
paquete de jamón de
York**



**Si compramos 2
paquetes de queso nos
regalan 1 (sólo
pagamos uno).**

NOŞ VAMOS DE EXCURSIÓN AL CAMPO

- Los alumnos de 4° se van a ir de excursión al campo y la teacher Silvia tiene que comprar comida para hacer una barbacoa.
- ¿Qué productos NO merece la pena comprar?





•La fecha de la excusión es el próximo 6 de mayo de 2013 y hoy es 25 de febrero.

tppt.com

*Ummm, ¡que rico!
choricitos a la brasa.
Cuestan 5 euros el kilo y
caducan el 10 de agosto
de 2013.*



tppt.com



*Filetes de
hamburguesa; Me
encantan ! Cuestan 3
euros el kilo y caduca
el 6 de abril de 2013.*

tppt.com

*Las chuletas
tienen muy buen
precio 8 euros el
kilo y caducan el
8 de Mayo de
2013.*



tppt.com

Miguel y Ana van a comprar con sus padres cosas para celebrar el cumple de Ana.

Compran 8 nubes.

Miguel y Ana van a comprar con sus padres cosas para celebrar el cumple de Ana.

Compran 6 piruletas y 8 chupa-chups.

Miguel y Ana van a comprar con sus padres cosas para celebrar el cumple de Ana.

Cogen también 10 sobres de cromos.

Miguel y Ana van a comprar con sus padres cosas para celebrar el cumple de Ana.

Eligen 6 globos azules y 8 rojos.

Miguel y Ana van a comprar con sus padres cosas para celebrar el cumple de Ana.

Compran 6 bolsas grandes de gusanitos.

Miguel y Ana van a comprar con sus padres cosas para celebrar el cumple de Ana.

Eligen 7 globos verdes.

Miguel y Ana van a comprar con sus padres cosas para celebrar el cumple de Ana.

Escogen 7 fresitas.

Miguel y Ana van a comprar con sus padres cosas para celebrar el cumple de Ana.

Cogen 9 lenguas de pica pica.

¿Cuántos globos compraron?

¿Cuántas chuches compraron en total?

¿Cuántas chuches más que globos compraron?

Marisol Bravo

**En la bolera de los Picapiedra se
ha juntado mucha gente.**

**¿Cuántas
personas hay en
la bolera?**


Esther Jaroso



Están Pedro y su amigo Pablo pidiendo los zapatos en el mostrador al mozo de la bolera. El jefe de Pedro y su mujer les acompañan y esperan su turno.



Están Vilma y Betty con dos amigas más.

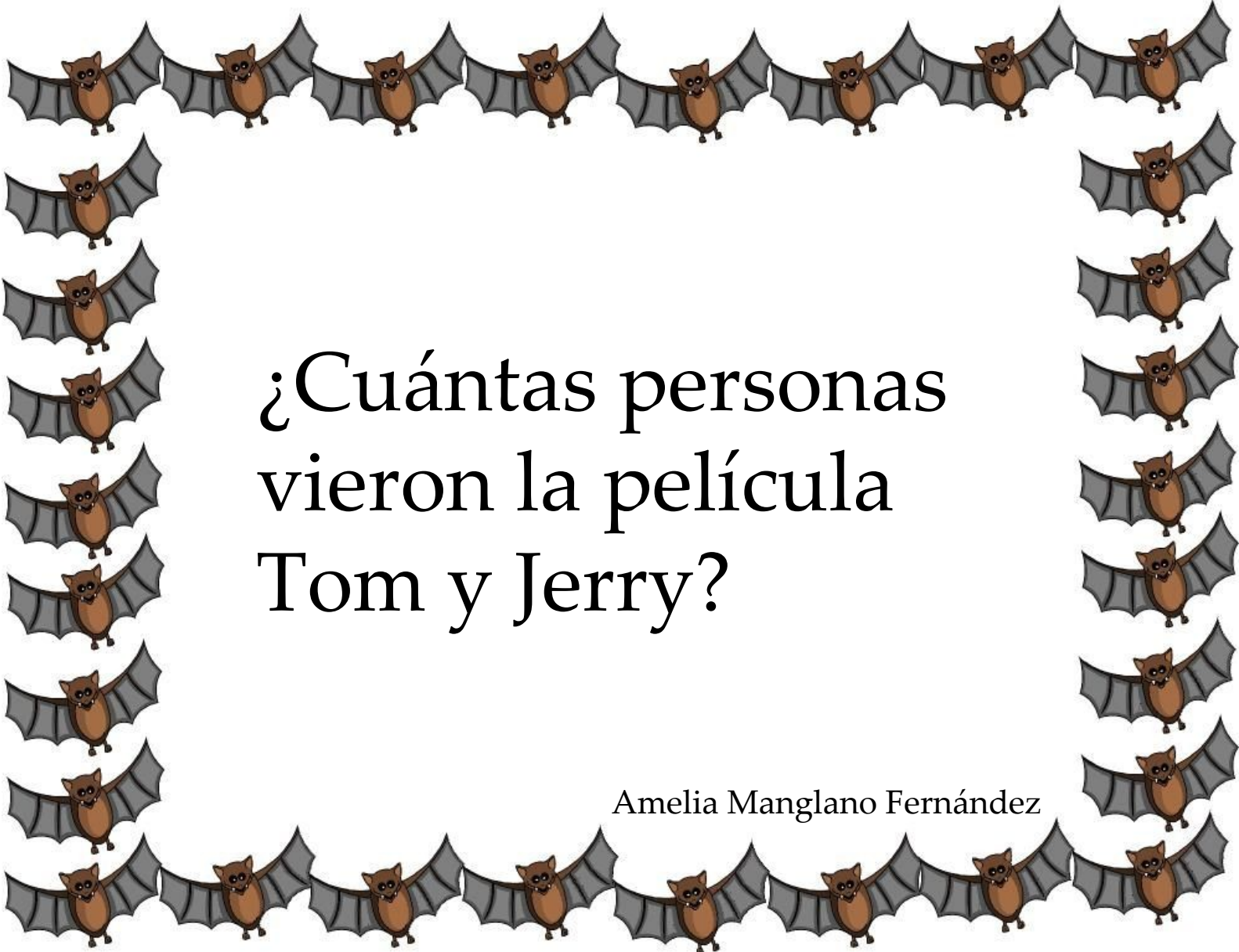


Están los dos niños (la hija de Pedro y Vilma y el hijo de Pablo y Betty) con tres amigos más de la escuela.



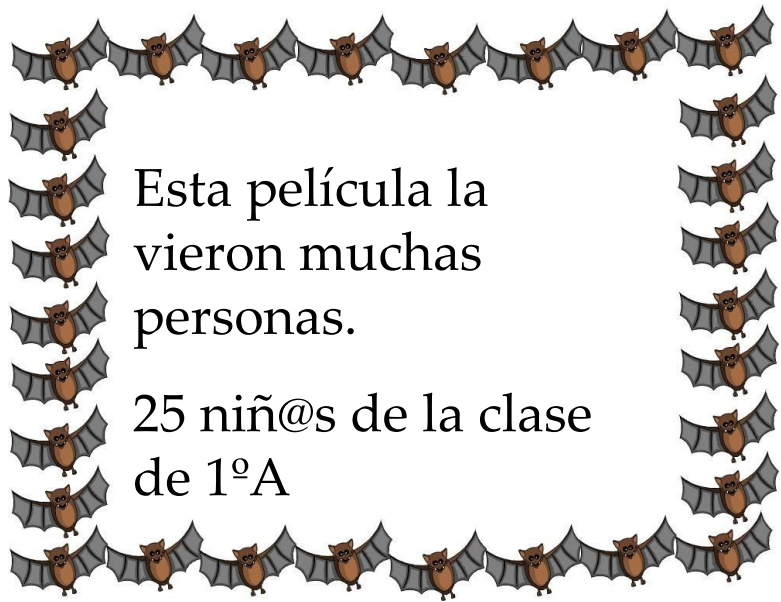
Dino juega con todos los niños.





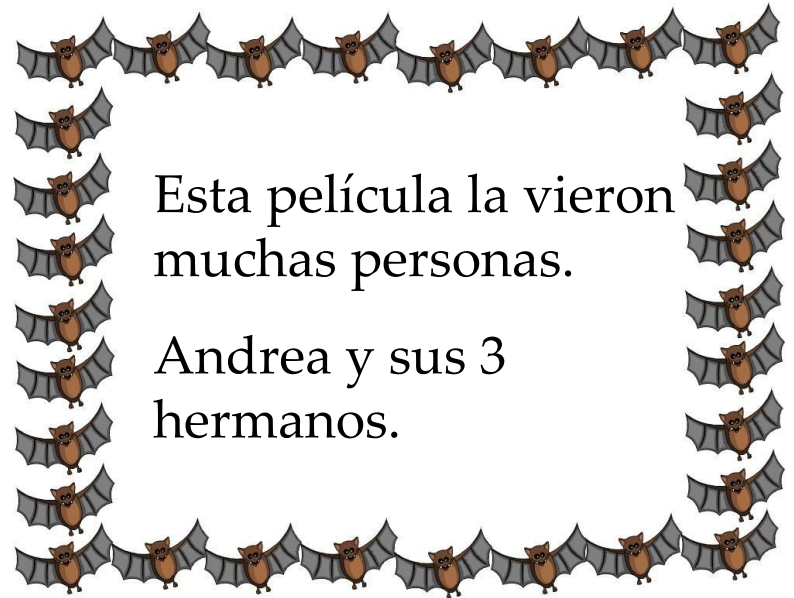
¿Cuántas personas
vieron la película
Tom y Jerry?

Amelia Manglano Fernández



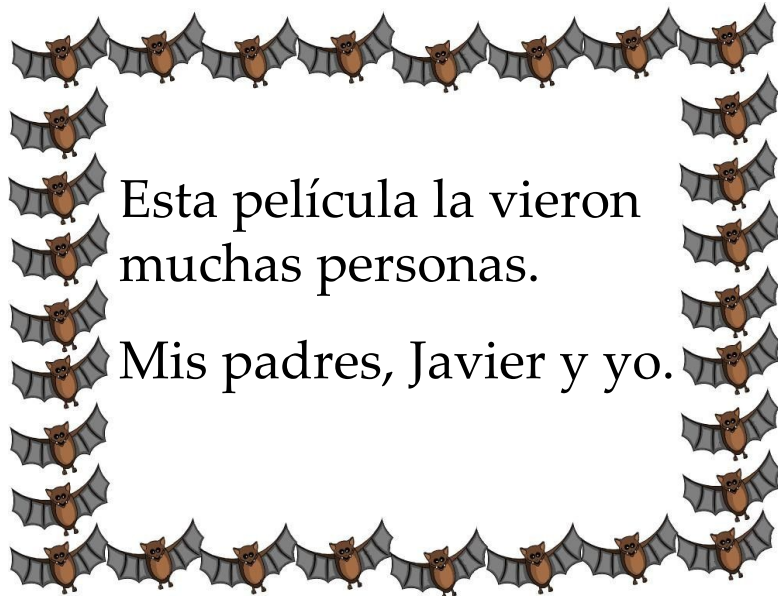
Esta película la
vieron muchas
personas.

25 niñ@s de la clase
de 1ºA



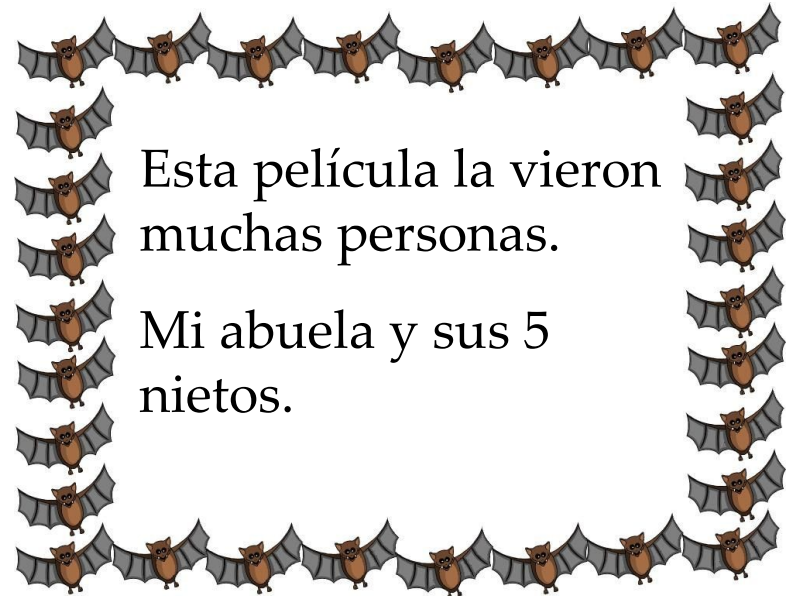
Esta película la vieron
muchas personas.

Andrea y sus 3
hermanos.



Esta película la vieron
muchas personas.

Mis padres, Javier y yo.



Esta película la vieron
muchas personas.

Mi abuela y sus 5
nietos.

¿ Qué día puede ir Ana al
veterinario a poner la vacuna
a su perro ?



Susana Martín Muñoz

Los martes y los jueves Ana
va a clase de baloncesto.



Los viernes cierra la consulta
del veterinario.



El miércoles celebra su
cumpleaños en casa.



El jueves tiene que
estudiar para el examen.



El viernes por la mañana va
a comprar con su madre.



Los martes y miércoles por la
mañana queda en el parque
con sus amigas.



Los Jueves va a comer
con sus abuelos.



El viernes va al cine con
sus primos.





Rosa tiene 2
años más que
Marisa

Luis tiene la
mitad de
años que
Marisa



Hoy es el
cumple de
Marisa.
¡¡¡Felicidades!!!



Nerea nació en 2010



**Son tres hermanos.
¿Quién es el mayor de
los tres?**



En un autobús con matrícula 1234-GHY que va de excursión viajan 27 niñas.



En un autobús con matrícula 1234-GHY que va de excursión viajan 23 niños.



En un autobús con matrícula 1234-GHY que va de excursión viaja un profesor.




En un autobús con matrícula 1234-GHY que va de excursión viajan dos profesoras.




¿Cuántas personas adultas viajan en el autobús con matrícula 1234-GHY que va de excursión?

José Antonio Quero Jalón




¿Cuántos niños irán
a la fiesta de
cumpleaños de
Lydia?

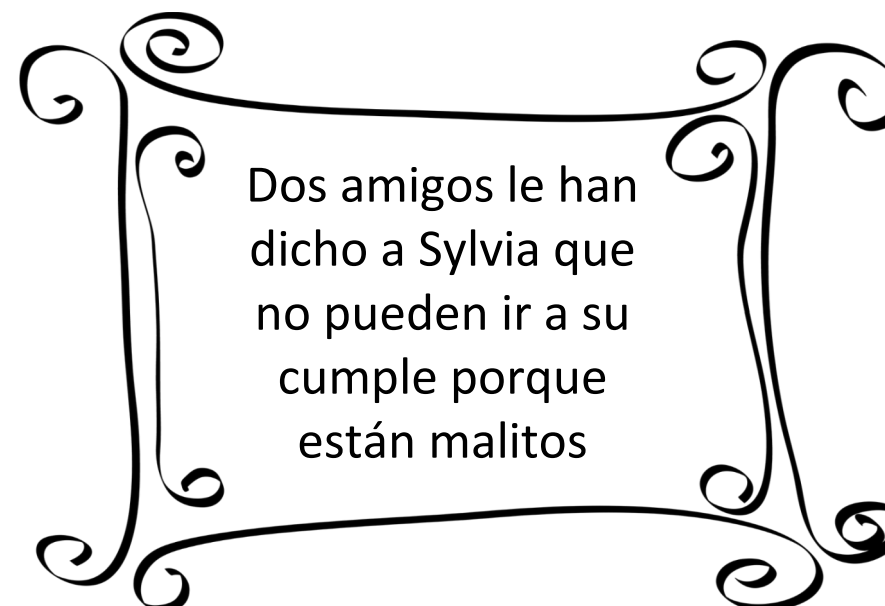
Tania Abizu Barrena

A decorative scroll frame with ornate, symmetrical flourishes at the corners and midpoints of the sides.


Lydia hoy
cumple 6
años

A decorative scroll frame with ornate, symmetrical flourishes at the corners and midpoints of the sides.

Lydia ha invitado
a 10 amigos a su
fiesta de
cumpleaños

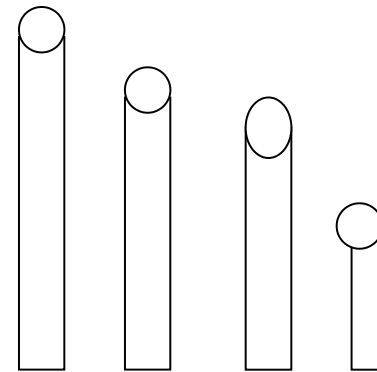
A decorative scroll frame with ornate, symmetrical flourishes at the corners and midpoints of the sides.

Dos amigos le han
dicho a Sylvia que
no pueden ir a su
cumple porque
están malitos

A decorative scroll frame with ornate, symmetrical flourishes at the corners and midpoints of the sides.

En la fiesta
Lydia regalará
dos globos a
cada invitado

Adivina, adivinanza
¿de qué color es cada tiza,
que no son blancas?



Atentos a las pistas



La tiza naranja es más corta que la amarilla.


La tiza verde es más corta que la naranja.



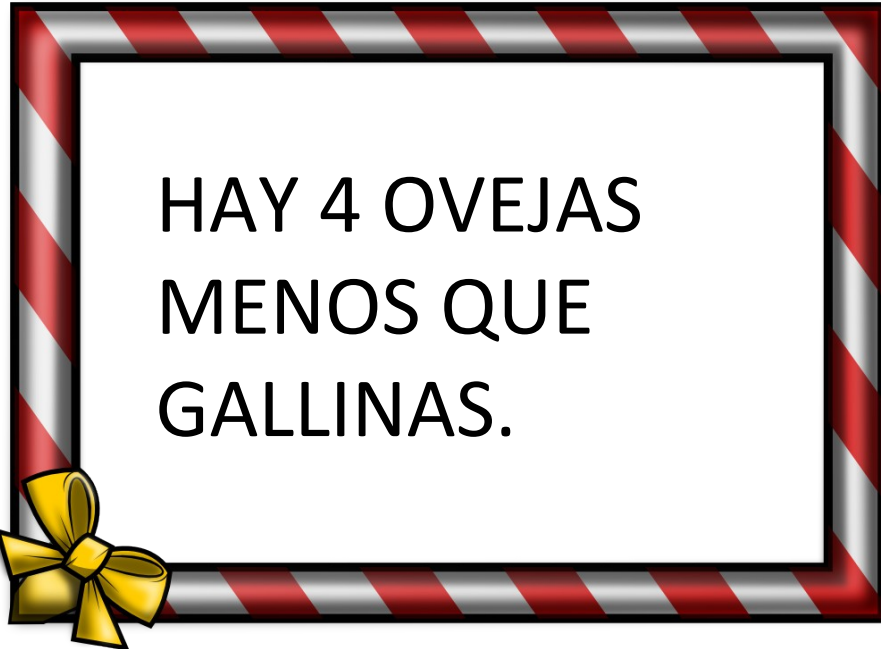
La tiza de marrón oscuro es más corta que la verde.



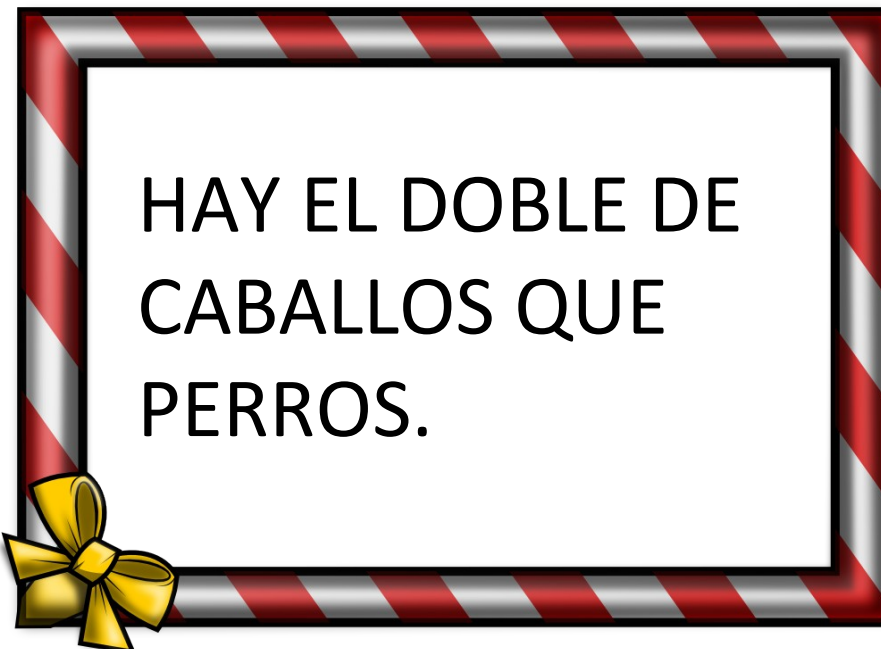
HAY 10
PERROS.



HAY DOS
GALLINAS MÁS
QUE PERROS.



HAY 4 OVEJAS
MENOS QUE
GALLINAS.



HAY EL DOBLE DE
CABALLOS QUE
PERROS.

¿CUÁNTOS ANIMALES
HAY EN LA GRANJA?

Mercedes Romero Tajuelo





¿Cuántos niños
vendrán a mi
fiesta?

Lorena Santome



¿Cuántos niños vendrán a mi fiesta?

Teo no tiene
hermanos.



¿Cuántos niños vendrán a mi fiesta?

Ana tiene una
hermana.



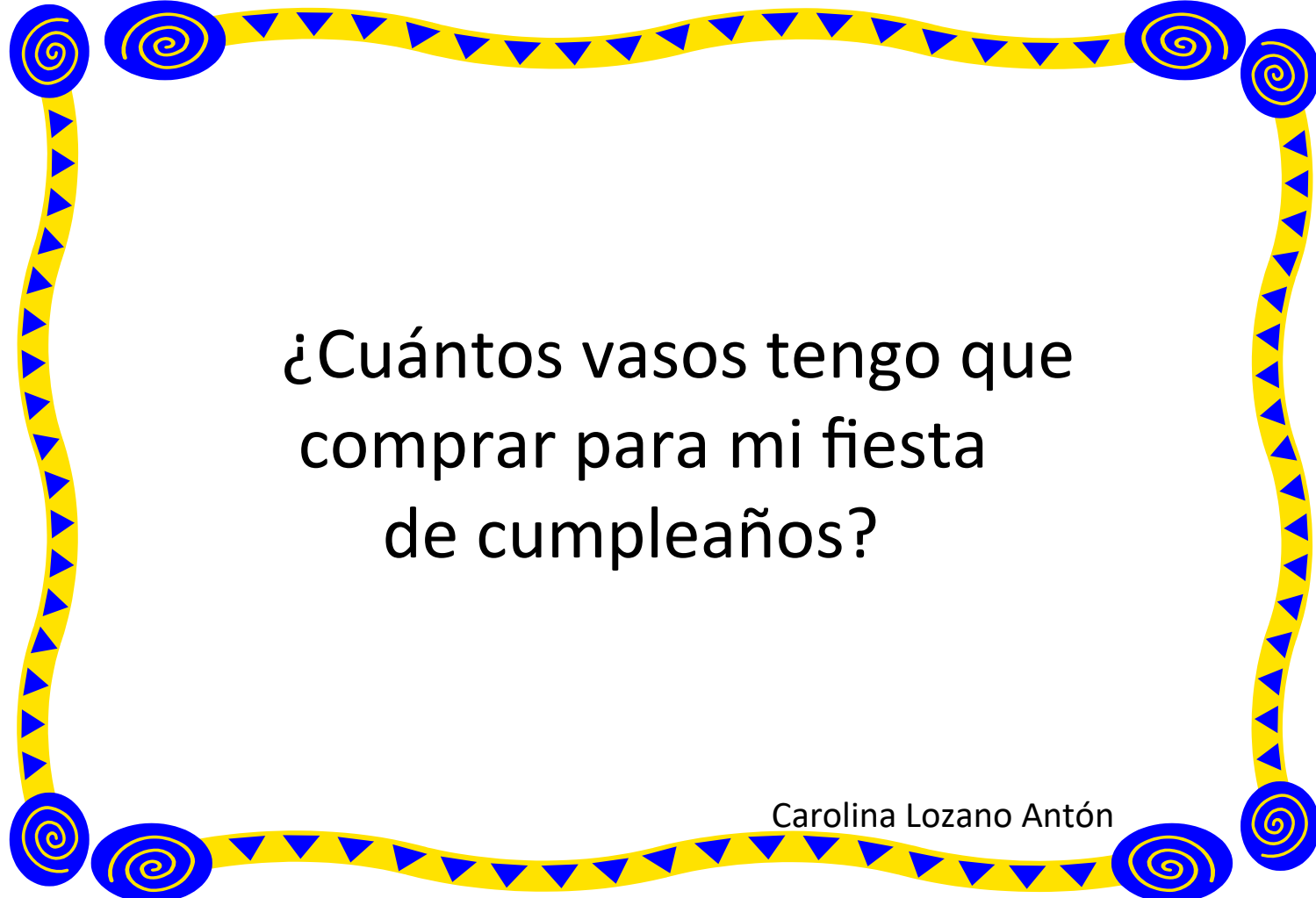
¿Cuántos niños vendrán a mi fiesta?

Invité a Sara,
Ana y Teo



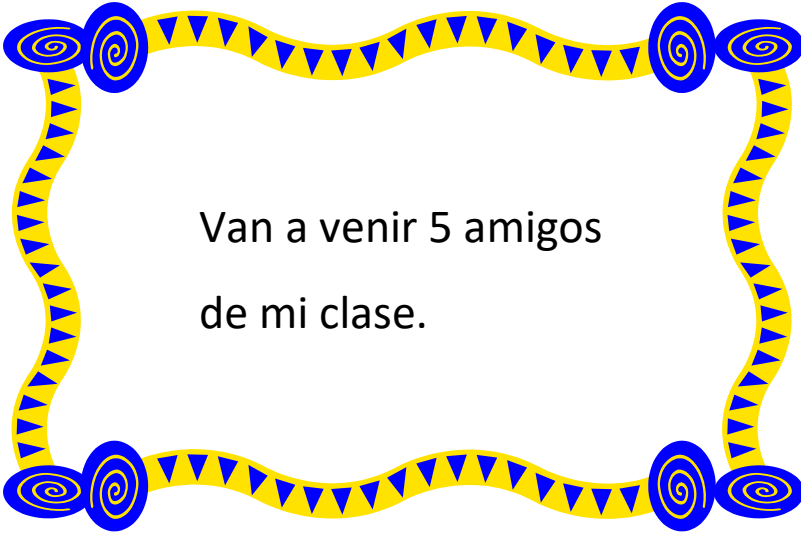
¿Cuántos niños vendrán a mi fiesta?

Sara tiene dos
hermanos




¿Cuántos vasos tengo que
comprar para mi fiesta
de cumpleaños?

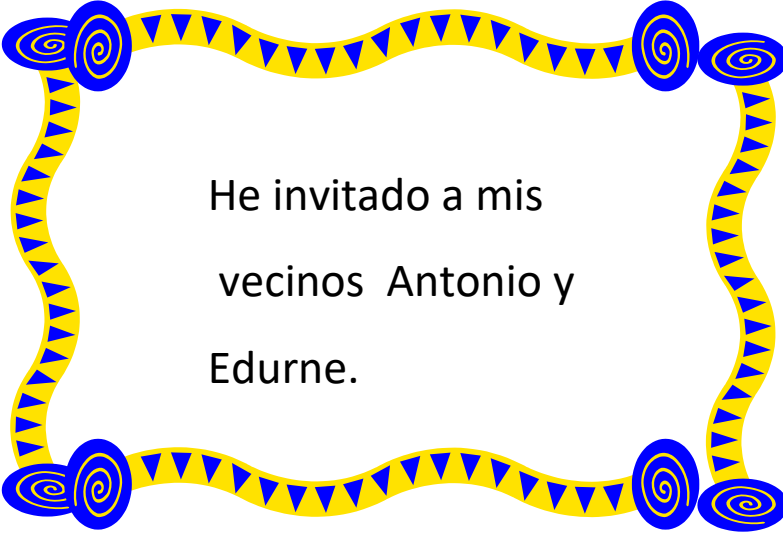
Carolina Lozano Antón



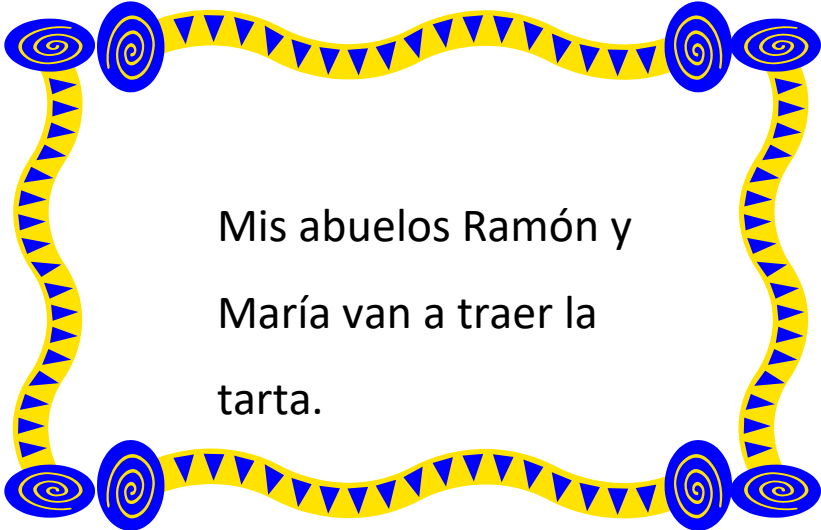
Van a venir 5 amigos
de mi clase.



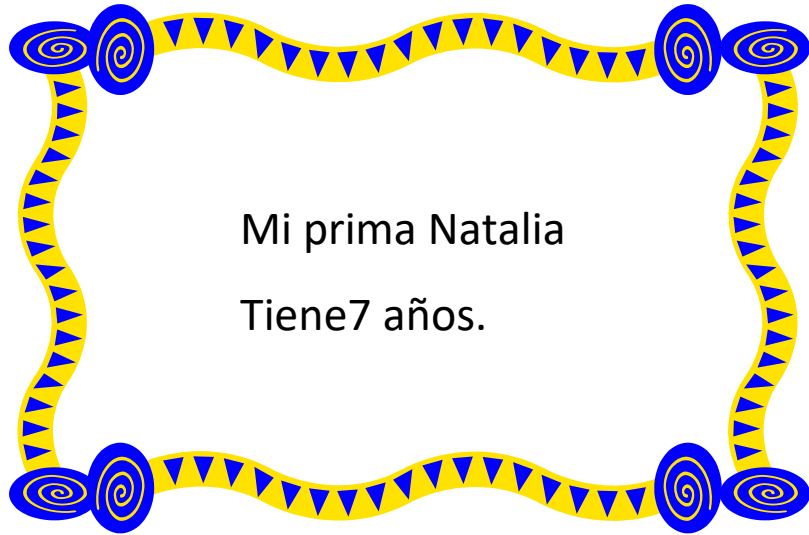
A María le gustan
las patatas.



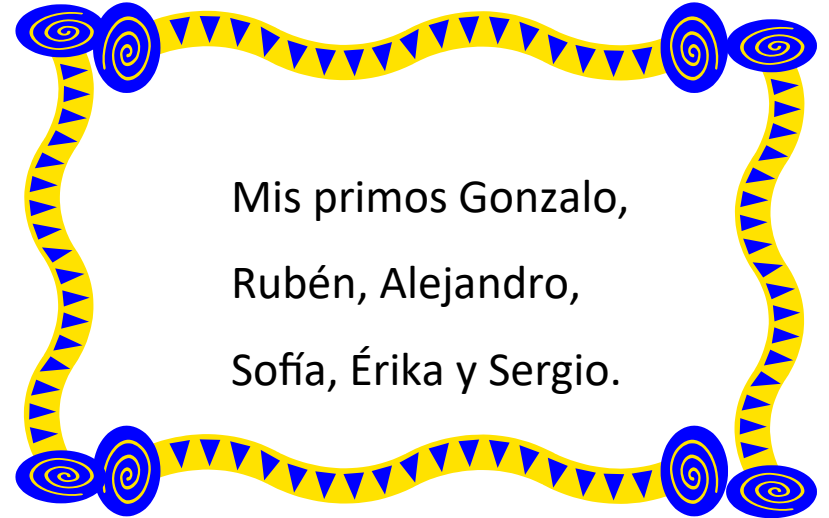
He invitado a mis
vecinos Antonio y
Eduardo.





Mis abuelos Ramón y
María van a traer la
tarta.



Mi prima Natalia
Tiene 7 años.



Mis primos Gonzalo,
Rubén, Alejandro,
Sofía, Érika y Sergio.



**La familia Picapiedra quiere hacer
unas bolsas de cumpleaños para
repartir a los compañeros del cole.**

**Hay que hacer
nueve bolsas.
¿Qué pondrán
dentro de cada
bolsa?**


María Antón Martínez



A Pedro le gustan mucho las bolas de chicle y lleva 18 de todos los sabores.



Vilma y Betty hacen 9 relojes de arena.



Los dos niños quieren participar, sacan dinero de su hucha y compran una bolsa de gusanitos para cada niño.



Dino juega con todos los niños y por eso trae 27 huesos de caramelo.

